

**Проверочная работа
по МАТЕМАТИКЕ**

4 КЛАСС

Вариант 33

Инструкция по выполнению работы

На выполнение работы по математике даётся 45 минут. Работа содержит 11 заданий.

В заданиях, после которых есть поле со словом «Ответ», запиши ответ в указанном месте.

В заданиях 5 (пункт 2) и 10 нужно сделать чертёж или рисунок.

В заданиях, после которых есть поле со словами «Решение» и «Ответ», запиши решение и ответ в указанном месте.

Если ты хочешь изменить ответ, то зачеркни его и запиши рядом новый.

При выполнении работы нельзя пользоваться учебниками, рабочими тетрадями, справочниками, калькулятором.

При необходимости можно пользоваться черновиком. Записи в черновике проверяться и оцениваться не будут.

Советуем выполнять задания в том порядке, в котором они даны. Для экономии времени пропускай задание, которое не удаётся выполнить сразу, и переходи к следующему. Постарайся выполнить как можно больше заданий.

Желаем успеха!

- 8 В мебельный магазин привезли девять одинаковых шкафов и несколько одинаковых диванов. Общий вес мебели составлял 3 т. При этом шкаф весит 300 кг, а диван – 100 кг. Сколько диванов привезли в мебельный магазин?

Запиши решение и ответ.

Решение:	
<div style="border: 1px dashed black; width: 20px; height: 20px; display: inline-block; vertical-align: middle;"></div> Ответ:	

- 9 На компьютере установлен пароль, состоящий из семи цифр. Цифры идут в порядке убывания, т. е. каждая следующая цифра меньше предыдущей. Третья цифра в этом пароле – «5», шестая – «2».

1) Какая цифра в пароле идёт пятой?

<div style="border: 1px dashed black; width: 20px; height: 20px; display: inline-block; vertical-align: middle;"></div> Ответ:	

2) Перечисли все цифры, которые могут стоять на первом месте в пароле.

<div style="border: 1px dashed black; width: 20px; height: 20px; display: inline-block; vertical-align: middle;"></div> Ответ:	

- 10 Из трёх кубиков сложили постройку. Если посмотреть на неё в направлении по стрелке, то будет видна фигура, состоящая из трёх квадратов (рис. 1). Из 27 таких же кубиков сложили куб (рис. 2). Затем с этого куба сняли несколько кубиков (рис. 3). Какая фигура будет видна, если смотреть на получившуюся постройку в направлении по стрелке?

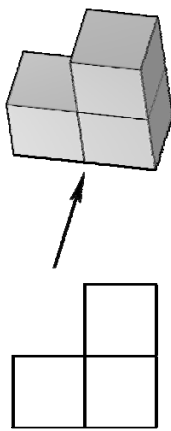


Рис. 1

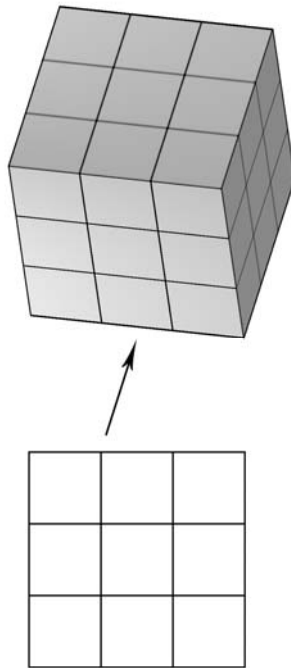


Рис. 2

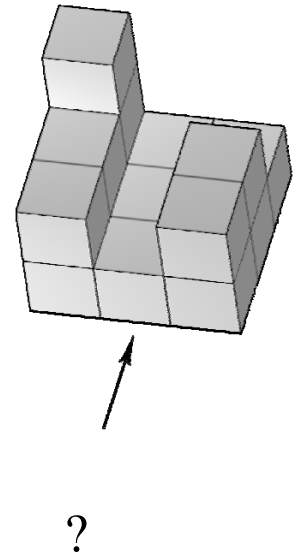
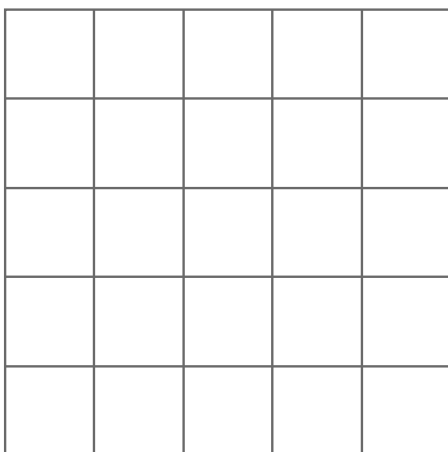


Рис. 3

Изобрази эту фигуру на клетчатом поле. Один кубик следует изображать одной клеткой.

Одно из полей можно использовать как черновик.

Черновик



Ответ

